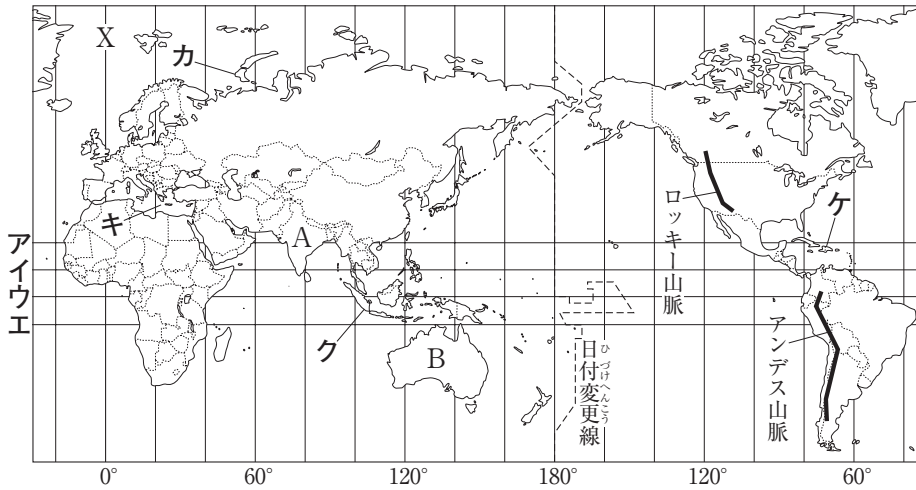


# 社会

※社会は自分の弱点の問題を確認して実施しましょう。

世界地理① 次の地図を見て、下の各問に答えなさい。



- (1) 右の文章は、上の地図を説明したものである。下線部 a「赤道」は、どれか。地図中のア～エから1つ選び、記号で答えなさい。
- (2)  にあてはまる内容を、次から1つ選び、記号で答えなさい。  
 ア 春から冬に後退しようとする  
 イ 秋から冬になろうとする  
 ウ 夏から秋になろうとする  
 エ 季節に変化はない
- (3)  にあてはまる経度0度の線を何というか。漢字5字で答えなさい。
- (4) 下線部 d「時差」について、地図中のAのインドは、東経82.5度の経線を標準時している。このインドと、東経135度の経線を標準時している日本との時差は、どれだけあるか。次から1つ選び、記号で答えなさい。  
 ア 2時間      イ 3時間半  
 ウ 5時間      エ 6時間半
- (5) 下線部 e「ニュージーランド」や地図中Bのオーストラリアなどが属しているのは、何という州か。州の名を答えなさい。
- (6)  にあてはまる正しい内容を次から1つ選び、記号で答えなさい。  
 ア 12時間のずれが生じるので、東から西へこえるときには時刻を12時間おくらせ、逆の場合は12時間進めることになる。  
 イ 12時間のずれが生じるので、西から東へこえるときには時刻を12時間おくらせ、逆の場合は12時間進めることになる。  
 ウ 24時間のずれが生じるので、東から西へこえるときには日付を1日おくらせ、逆の場合は1日進めることになる。  
 エ 24時間のずれが生じるので、西から東へこえるときには日付を1日おくらせ、逆の場合は1日進めることになる。
- (7) 地図中のロッキー山脈とアンデス山脈は、いずれも高くてけわしい山脈で、ある新しい

地球上のあらゆる地点は、緯度と経度で表すことができる。a 赤道を0度として、地球を南北にそれぞれ90度にわけたものが緯度である。赤道より北を北緯、南を南緯という。

緯度のちがいは、気候や季節のちがいにあらわれてくる。例えば、北半球の日本が冬から春になろうとする3月に、南半球の地図中Bのオーストラリアは  。

いっぽう、 を0度として、地球を東西にそれぞれ180度に分けたものが経度である。上の地図では、イギリスの旧グリニッジ天文台を通るXの線が  である。これよりも、東を東経、西を西経という。


同じ経度の地点どうしは同じ時刻を示すが、経度がちがうと、d 時差が生じる。

東経180度 (=西経180度) は、e ニュージーランドの東の太平洋上を通っている。これにほぼ沿った線を日付変更線という。日付変更線の両側では、 。

- ①
- (2) 北半球と南半球では、季節が反対になる。
- (4) 日本とインドの経度差は、 $135 - 82.5 = 52.5$ (度)である。経度差15度につき、1時間の時差が生じるので、 $52.5 \div 15 = 3.5$ (時間)となる。
- (5) オーストラリア大陸と、オーストラリアやニュージーランドが属するオセアニア州とを混同しないこと。
- (6) 日付変更線の両側では、1日(24時間)の時差がある。
- (8) 地中海に浮かぶギリシャの島々の写真である。強い日差しをさけるため、白い石造りの家が多い。

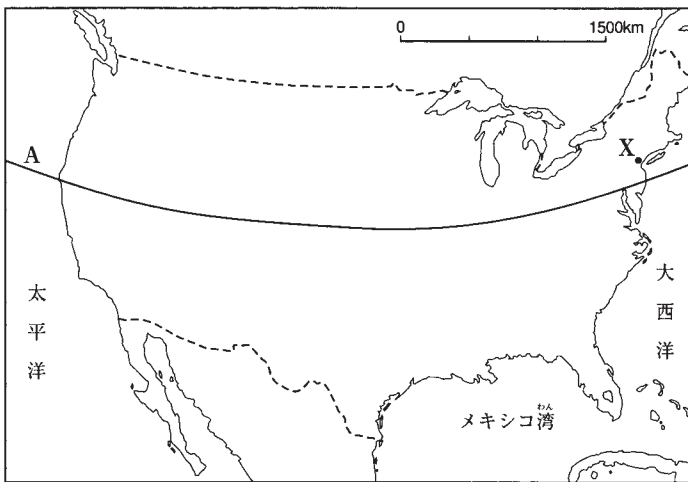
造山帯にふくまれる。この造山帯の名を答えなさい。

(8) 右の2枚の写真は、いずれも冬に雨が多く、夏は乾燥している地域の海にうかぶ島々の建物を写したものである。こうした白い石造りの建物がよく見られる地域を、地図中のカ〜ケから1つ選び、記号で答えなさい。



世界地理② アメリカ合衆国について、右の地図とグラフを見て、下の各問に答えなさい。

(1) アメリカ合衆国は、北アメリカ州に属しているが、次のア〜エのうち、北アメリカ州に属していない国はどれか。記号で答えなさい。



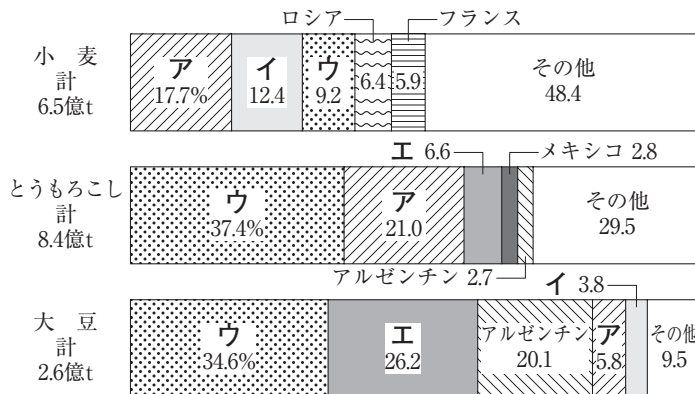
ア キューバ    イ メキシコ    ウ カナダ    エ コロンビア

(2) 地図中のXの都市は、人口がおよそ818万人(2010年)で、世界の経済・金融の中心的城市である。この都市名を書きなさい。

(3) 地図中のAは、日本では秋田市付近を通る緯線である。正しい緯度は次のどれか。記号で答えなさい。

ア 北緯20度    イ 北緯40度    ウ 南緯20度    エ 南緯40度

(4) 右のグラフは、世界の主な食料について、生産国別の生産量の内わけを示している。グラフ中のア〜エのうち、アメリカ合衆国を示しているものはどれか。記号で答えなさい。ただし、それぞれのグラフのア〜エは、同じ国を表している。



(5) 次の文は、アメリカ合衆国の

産業について説明したものである。□にあてはまる語句を、漢字3字で書きなさい。

アメリカ合衆国は、農業や工業の面で大きな生産力をもっており、世界経済において重要な地位をしめている。また、アメリカ合衆国に本社を置き、世界じゅうで経済活動を行っている企業も多い。このような企業は□企業とよばれ、進出している国や地域の経済や社会に対して大きな影響をおよぼしている。

②

(1) エコロンビアは、南アメリカ州に属する国である。

(4) アは中国、イはインド、エはブラジルである。世界の主な食料の生産を見ると、アメリカが大きな割合をしめていることがわかる。

(5) 多国籍企業といわれる企業が進出した地域では、経済的な面だけでなく、消費のしかたや食生活のあり方など、生活のさまざまな面で影響を受けることになる。

日本の③ 次の石川県金沢市の2万5000分の1の地形図(国土地理院発行)を見て、下の各問に答えなすがたさい。

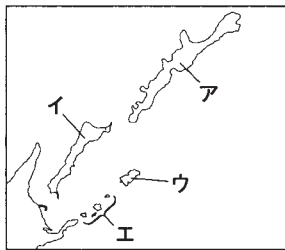


- ③
- (1) 特別な指示がない限り、地形図は上が北を示す。
  - (2) 2万5000分の1の地形図なので、 $6\text{ cm} \times 25000 = 150000\text{ cm} = 1500\text{ m}$ となる。
  - (3) アは、広葉樹林ではなく針葉樹林。イは、寺院ではなく神社。エは、工場ではなく変電所(発電所)。
  - (4) 人口の多少の分布を点(ドット)で示すドットマップが適している。

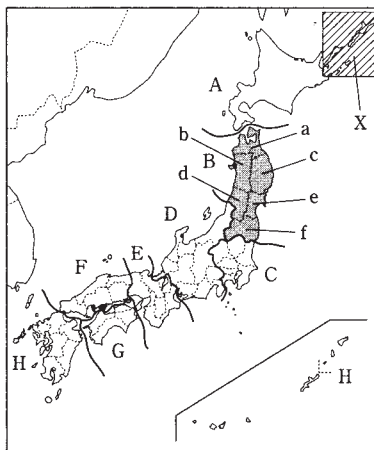
- (1) 地図中の「野田町」から見て、「つつじが丘」は、どの方位にあたるか。その方位を漢字2字(8方位)で答えなさい。
- (2) 地図中の「大乘寺」から「犀川」にかかる「犀川雪見橋」まで、地図上の直線距離をはかると、約6 cmである。実際の直線距離を次から1つ選び、記号で答えなさい。  
ア 約150m    イ 約500m    ウ 約1500m    エ 約2500m
- (3) 地図から読み取れる正しい内容を次から1つ選び、記号で答えなさい。  
ア 野田山墓地は、野田山の斜面に広がっている広葉樹林のなかにある。  
イ つつじが丘から大桑町に向かうところには、寺院が建っている。  
ウ 大桑町から大桑橋に向かうところには、果樹園が広がっている。  
エ 長坂町から長坂三丁目に向かうところには、工場が建っている。
- (4) この地形図をもとに、金沢市内の人口の散らばりを表す主題図をつくるとき、どんな種類の地図をつくれれば見やすいか。次から1つ選び、記号で答えなさい。  
ア ドットマップ    イ 段彩図    ウ 等値線図    エ ルートマップ

日本の④ 右の地図を見て、次の各問に答えなさい。

- すがた (1) 地図中のXには、歯舞群島、色丹島、国後島、択捉島から成る北方領土がある。このうち択捉島の位置を右の地図中のア～エから1つ選び、記号で答えなさい。



- (2) 日本は、8つの地方に分けることができる。次の文は、ある地方について述べたものである。この地方を、地図中のA～Hから1つ選び、記号で答えなさい。また、文中の( )にあてはまる県名を答えなさい。



- ④ (1) 北方領土は、日本の固有の領土であるが、現在はロシア連邦に占領されている。択捉島は日本の最北端の島である。

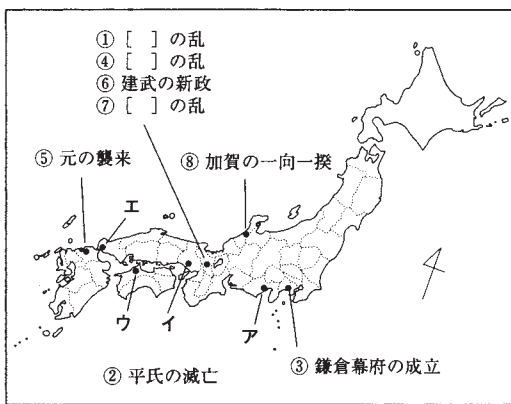
この地方は、北陸地方・中央高地・東海地方の3つの地域に区分される。また、この地方に属している( )県は、8つの県と県境を接している。

(3) 次の表は、地図中の a ~ f の県の各県の統計を示したものである。表中の④にあてはまる県を、地図中の a ~ f から1つ選び、記号で答えなさい。また、県名を答えなさい。

|   | 面積 (km <sup>2</sup> ) | 米の生産量(t) | 果実産出額 (億円)※ | 年間商品販売額(億円)※※ |
|---|-----------------------|----------|-------------|---------------|
| ① | 13783                 | 353600   | 272         | 46702         |
| ② | 9323                  | 392200   | 453         | 27027         |
| ③ | 7286                  | 363200   | 21          | 106014        |
| ④ | 9645                  | 280500   | 652         | 33103         |
| ⑤ | 15279                 | 297600   | 113         | 31881         |
| ⑥ | 11636                 | 512100   | 81          | 24708         |

(※は2009年, ※※は2007年, 他は2011年)  
 (「日本国勢図会2012/13年」ほかより)

中世の 日本 ⑤ 右の地図は、12～15世紀に起こった歴史上のできごととその場所をまとめたものである。地図中の①～⑧の数字は、できごとが起こった順番を示している。これを見て、次の各問に答えなさい。



- (1) 地図中の①・④・⑦の[ ]には、すべて京都で起こった乱があてはまる。それぞれの語句の正しい組み合わせ合わせを、次のア～オから1つ選び、記号で答えなさい。
- ア ①…承久, ④…応仁, ⑦…保元  
 イ ①…承久, ④…保元, ⑦…応仁  
 ウ ①…保元, ④…壬申, ⑦…応仁  
 エ ①…保元, ④…承久, ⑦…壬申  
 オ ①…保元, ④…承久, ⑦…応仁

- (2) 地図中②の「平氏の滅亡」の正しい場所を、地図中のア～エから1つ選び、記号で答えなさい。
- (3) 地図中⑤の「元の襲来」について、元は二度にわたって九州北部に攻めてきた。これについて説明した、次の文章中の [ ] にあてはまる語句を、あとのア～エから1つ選び、記号で答えなさい。

御家人の活やくと暴風雨のおかげによって、幕府は元の襲来を退けたが、戦いに功績を上げた御家人に対して、十分な恩賞をあたえることができなかった。御家人のなかには、生活に困り、領地を失う者も出てきた。そこで、幕府は [ ] を出し、御家人が失った土地をただで返させようとした。だが、効果は一時的にすぎず、かえって幕府は信用を失った。

- ア 徳政令    イ 倭約令    ウ 刀狩令    エ 禁教令
- (4) 地図中⑥の「建武の新政」を行った人物はだれか。次から1つ選び、記号で答えなさい。
- ア 白河上皇    イ 後醍醐天皇    ウ 後鳥羽上皇    エ 桓武天皇
- (5) 地図中⑧の「加賀の一向一揆」とは、一向宗の信仰で結びついた武士や農民たちが起こした一揆である。信者たちは、この地を治めていた [ ] 大名をたおし、その後、100年近くにわたって自治を続けた。この [ ] にあてはまる語句を、漢字2字で答えなさい。

- ⑤
- (1) ①・④・⑦のできごとを年代順に並べると、①1156年…保元の乱, ④1221年…承久の乱, ⑦1467年…応仁の乱となる。
- (2) 平氏は、壇ノ浦(山口県)の戦いで源氏に敗れ、滅亡した。
- (3) 徳政令とは、土地の返却や借金の帳消しを命じる法令。
- (5) 一向宗の信者らが自治を行った加賀の国は、「百姓のもちたる国」とよばれた。