

社会

※社会は自分の弱点の問題を確認して実施しましょう。

世界地理① 次の地図を見て、下の各問に答えよ。

総合




- (1) 地図中に本初子午線と赤道を書き入ると、三大洋の1つの海上で交わる。この海洋名を答えよ。
- (2) 地図中のXの国の国境線の多くが直線で引かれている。その理由について述べた次の文中の()にあてはまる語句を漢字3字で答えよ。

ヨーロッパ諸国が、この地域を()として支配していたときに、人々の生活範囲とは関係なく国境線を勝手に引いたため。

- (3) 次の文は、地図中のA～Dの各国についてそれぞれ述べたものである。Cの国について述べているものを次から1つ選び、記号で答えよ。
 ア 世界で最も流域面積が広い川が流れる国で、移民の日系人が多い。
 イ 世界で2番目に人口が多い国で、南アジアに属している。
 ウ 日本とは時差はほとんどないが、季節が反対になっている。
 エ 世界で最も早く産業革命をなした国である。
- (4) 地図中のDの国の首都の標準時子午線は西経45度である。日本が2月1日午後7時のとき、Dの国は何月何日何時か。次から1つ選び、記号で答えよ。
 ア 1月31日午前7時 イ 1月31日午前10時
 ウ 2月1日午前7時 エ 2月1日午前10時

- (5) 右のグラフは、小麦の主要輸出国の輸出量の割合を表したものである。グラフ中の①、②はそれぞれ地図中のa～dの国のいずれかである。①、②の組み合わせとして正しいものを次から1つ選び、記号で答えよ。
 ア ①-a、②-c イ ①-c、②-a
 ウ ①-b、②-d エ ①-d、②-b



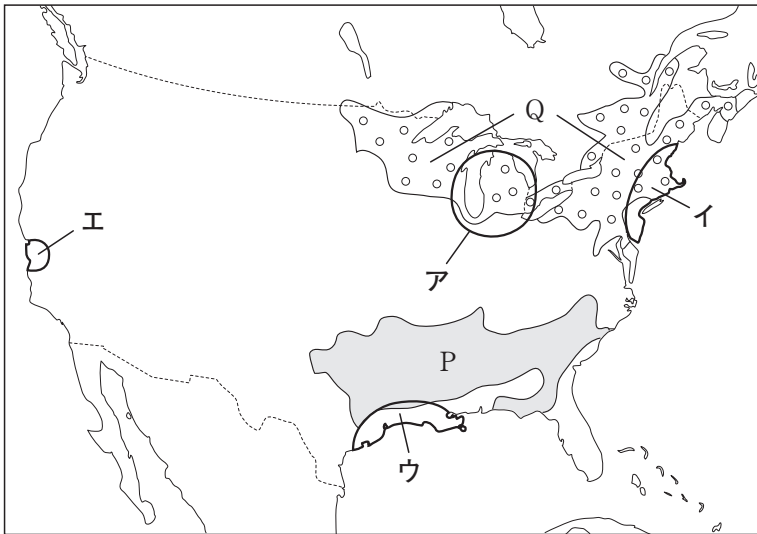
- (6) 地図中のcの国について、次の各問に答えよ。
 ① 次の文は、cの国のある工業地域について述べたものである。この工業地域にあてはまるものを、次ページの地図中のア～エから1つ選び、記号で答えよ。

この工業地域のシリコンバレーには、コンピューターや半導体に関連した企業や研究所が多く集まっている。

- ①
- (2) Xのエジプトだけでなく、アフリカ大陸には直線で引かれた国境線が多く見られる。
- (3) アはブラジルでD、イはインドでB、エはAでイギリスである。
- (4) Dのブラジルは、地球上で日本のほぼ裏側になる。まず経度差を求める。 $135(\text{度}) + 45(\text{度}) = 180(\text{度})$ 。経度差15度で1時間の時差が生じるので、 $180(\text{度}) \div 15(\text{度}) = 12(\text{時間})$ 。日本よりも12時間おそい時刻となる。
- (6) ① サンフランシスコ近郊に広がるシリコンバレーについての文である。

② 下の地図中のP・Qにあてはまる農業地帯の組み合わせとして正しいものを次から1つ選び、記号で答えよ。


- ア P-綿花地帯 Q-酪農地帯 イ P-綿花地帯 Q-とうもろこし地帯
 ウ P-酪農地帯 Q-綿花地帯 エ P-とうもろこし地帯 Q-綿花地帯



世界地理② 世界のさまざまな文化について、次の各問に答えよ。

総合

- (1) 右の写真は、ある宗教の信者が神に祈りを捧げている様子を表している。7世紀、アラビア半島でムハンマドがおこした、この宗教の名を答えよ。
- (2) 右のイラストの①はサリーと呼ばれる民族衣装、②はチマ・チョゴリと呼ばれる民族衣装である。それぞれどこの国の民族衣装か。次から1つずつ選び、記号で答えよ。



- ア 韓国 イ パル
 ウ タイ エ インド

- (3) 世界各地の住居について間違っているものを次から1つ選び、記号で答えよ。
- ア 北極圏の高緯度地方の人々は、氷のブロックを積み上げてつくった家に住んでいる。
- イ 高温多湿な熱帯地方の人々は、風通しがよく、雨の被害をくい止める高床の家に住んでいる。
- ウ 日差しが強い地中海沿岸の人々は、壁を白くぬった石造りの家に住んでいる。
- エ 砂漠が広がる乾燥地帯の人々は、木や竹を組んだ風通しのよい家に住んでいる。

②

- (1) イスラム教は、キリスト教・仏教と並ぶ、世界三大宗教のひとつ。イスラム教徒(ムスリム)は、1日5回、聖地メッカ(サウジアラビア)に向かって、神(アッラー)に祈りを捧げる。
- (3) エの乾燥地帯の人々は、日干しれんがを積み上げた家や羊の皮でつくった移動式のテントに住んでいる。

古代社会③ 次の歴史上の人物に関する文章を読んで、下の各問に答えよ。

のあゆみ

藤原道長 a 藤原(中臣)鎌足の子孫にあたる。道長は、**b** で勢力をのぼした。栄華の絶頂にあったときには、「この世をばわが世とぞ思う望月の欠けたることもなしと思えば」という歌をよんだ。息子のc 藤原頼通も強い権力を持ち、父子で藤原家の全盛時代を築いた。

平清盛 保元の乱・平治の乱の勝利によって勢力をのぼし、武士として初めて **d** になった。そして「平氏でなければ人にあらず」とも言われるほど、力をほこった。e 宋との貿易にも熱心で、兵庫の港を整備し、海の神をまつる f 厳島神社を深く信仰した。

③

- (1) 中大兄皇子と中臣鎌足は、初めて大化という年号を定め、全国の土地と人民を国のものとした。
- (2) 藤原氏は、天皇が幼いうちは摂政、成人してからは関白という職につき、天皇に代わって政治を行った。

- (1) 下線部 a の「藤原(中臣)鎌足」は、645年に豪族の蘇我氏をたおし、大化の改新とよばれる政治改革を行った。中臣鎌足とともに大化の改新を行い、後に天智天皇となった人物の名を答えよ。
- (2) **b** にあてはまる内容を次から1つ選び、記号で答えよ。
 ア 地方で起こった豪族の反乱をしずめ、天皇の信頼を得ること
 イ 有力な貴族たちと親せき関係を結び、天皇家に対抗すること
 ウ 自分の娘たちを天皇と結婚させて、その子を天皇に立てること
 エ 力をもっていた寺院や豪族に、たくさんの土地をあたえること
- (3) 下線部 c の「藤原頼通」は、道長が手にいれた別荘を寺院として改め、阿弥陀堂を建てた。この阿弥陀堂の名を次から1つ選び、記号で答えよ。
 ア 中尊寺金色堂 イ 東大寺法華堂 ウ 平等院鳳凰堂 エ 興福寺北円堂
- (4) **d** にあてはまる役職を漢字4字で答えよ。
- (5) 下線部 e について、日本が宋から大量に輸入し、鎌倉時代にかけて全国に普及するようになったものを次から1つ選び、記号で答えよ。
 ア 銅銭 イ 漆器 ウ 茶 エ 火薬
- (6) 下線部 f 「巖島神社」がある県の名を答えよ。

- (4) 太政大臣となった平清盛は、平氏一族を朝廷の高い職につけ、一族の思い通りに国を支配した。
- (5) 宋から大量に輸入された銅銭(宋銭)は、日本の貨幣経済の発展の基礎となった。
- (6) 巖島神社は、広島県廿日市市の宮島にある。1996年、世界文化遺産に登録された。

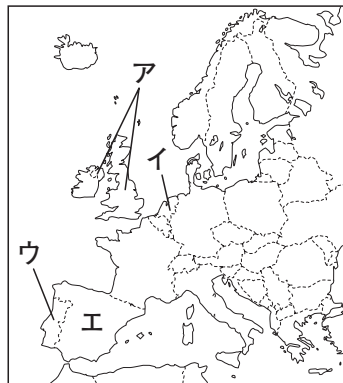
武家政治④ 右の年表を見て、下の各問に答えよ。

の成立

- (1) a について、関ヶ原の戦い以後に徳川家に従った大名を何大名とよぶか。答えよ。
- (2) b について、次の各問に答えよ。
 ① () にあてはまる国はどこか。右下の地図中のア～エから1つ選び、記号で答えよ。(ただし、国境線は現在のものである。)

年代	ことがら
1600	関ヶ原の戦い … a
1639	() 船の来航を禁止する … b
1649	慶安の御触書が出されたと伝えられている … c
1825	外国船打払令が出される … d

- ② このあと幕府によって行われた、外国との交流を制限した政策を何というか。漢字2字で答えよ。
- (3) c について、このころの社会のようすとして正しいものを次から1つ選び、記号で答えよ。
 ア 農民は、有力な農民の指導のもとで村ごとに惣とよばれる自治組織をつくった。
 イ 米の価格が上がり、富山県で米の安売りを求める暴動がおきた。この騒動は、新聞報道を通じて、全国の主要な都市に広がった。
 ウ 租・調・庸などの税のほか、兵役の義務が課せられ、これらの負担から逃亡する者もいた。
 エ 五人組の制度がつくられ、犯罪の防止や年貢の納入などに連帯責任を負わされた。
- (4) d について、この政策を批判して1839年に厳しい処罰を受けた人物を次から二人選び、記号で答えよ。
 ア 渡辺華山 イ 大塩平八郎
 ウ 高野長英 エ 新井白石 オ 田沼意次



- (5) 17世紀末から18世紀のはじめにかけて元禄文化が栄えた。この文化について述べた文として正しいものを次から1つ選び、記号で答えよ。
 ア 「東海道中膝栗毛」のような滑稽な小説が人気を集めた。
 イ 錦絵が大流行し、葛飾北斎や歌川(安藤)広重が風景画に優れた作品を残した。
 ウ 狩野永徳が弟子の狩野山楽とともに障壁画を描いた。
 エ 菱川師宣が町人の風俗を描き、浮世絵を始めた。

④

- (1) 徳川家の一門は親藩、関ヶ原の戦い以前からの徳川家の家臣は譜代大名という。
- (2) 1639年にポルトガルの船の来航が禁止され、鎖国が完成した。
- (3) アは室町時代の農村のようす、イは1918年のシベリア出兵をみこした商人の米の買い占めによって起こった暴動、ウは奈良時代のようすである。
- (4) 蘭学者の渡辺華山と高野長英は、幕府の鎖国政策を批判して、厳しく処罰された。この事件を蛮社の獄という。
- (5) ア・イは化政文化、ウは桃山文化についての文である。

近現代の⑤ 右の表は、20世紀中に、日本が諸外国と締結した主な同盟・条約をまとめたものである。

日本 これについて、次の各問に答えよ。

(1) Aの [] にあてはまる同盟の名を漢字で答えよ。

(2) Bの「ポーツマス条約」を結んだ直後の日本国内の様子を次から1つ選び、記号で答えよ。

ア 欧米諸国との不平等条約改正の糸口にしようと、ロシアからの賠償金で鹿鳴館が建てられた。

イ ロシアからの賠償金によって官営の八幡製鉄所が建設され、国民の生活は豊かになった。

ウ 賠償金の代わりに遼東半島を失ったため、ロシアをさらに敵視するようになった。

エ ロシアから十分な賠償金を得られなかったため、政府に対する国民の不満が高まった。

(3) Bの「ポーツマス条約」の締結から、Cの「日独伊三国同盟」の締結までの間に日本国内で制定された法令を次から2つ選び、年代の古い順に並べて、記号で答えよ。

- ア 独占禁止法 イ 国家総動員法
- ウ 国家賠償法 エ 公職選挙法
- オ 治安維持法

(4) Cの「日独伊三国同盟」は、日本が軍国主義的な独裁国家であるドイツ・イタリアと結んだ同盟である。このとき、イタリアの独裁者ムッソリーニが率いていた政党の名を答えよ。

(5) Dの「サンフランシスコ平和条約」を調印した日本の首相の名を次から1つ選び、記号で答えよ。

- ア 吉田茂 イ 佐藤栄作 ウ 東条英機 エ 岸信介

(6) Dの「サンフランシスコ平和条約」の締結と同時に、日本はアメリカとの間で、軍事的な相互援助を約束する条約を結んだ。この条約の名を漢字8字で答えよ。

[] 同盟	…………… A
1902年、ロシアの南下に備えて締結された。その後、2回の改定を経て、1920年代初めまで継続された。	
ポーツマス条約	…………… B
日露戦争の講和条約。1905年にアメリカ大統領のなかだちによって、ポーツマスで締結された。	
日独伊三国同盟	…………… C
1940年、日本・ドイツ・イタリアの間で締結された軍事同盟条約。3国の敗戦によって解消された。	
サンフランシスコ平和条約	…………… D
日本が国際社会への復帰を果たした条約。1951年、日本と連合国48か国の間で締結された。	

- ⑤
- (2) ポーツマス条約で、日本はロシアから賠償金を得られなかった。そのため、苦しい生活に耐えてきた国民の間で不満が高まり、条約調印のときには大規模な反対集會が開かれ、暴動事件も起こった。
- (3) オの治安維持法は1925年、イの国家総動員法は1938年に制定。この他の法律は、すべて終戦後に制定。
- (4) ドイツのヒトラーが率いたのは、ナチス(ナチ党)である。