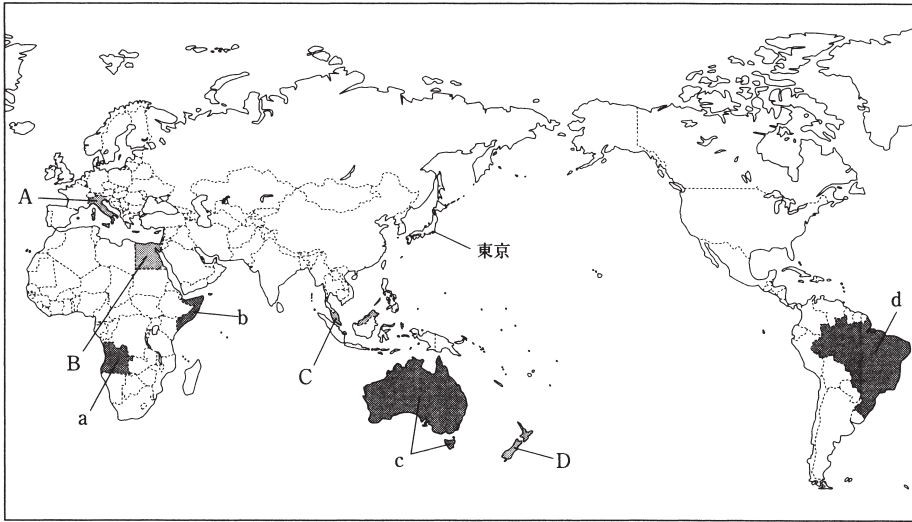


社会

※社会は自分の弱点の問題を確認して実施しましょう。

世界地理 ① 次の地図を見て、下の各問に答えよ。

総合



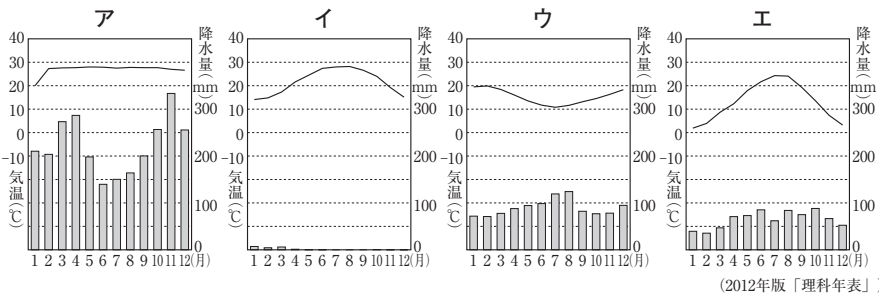
- (1) 大西洋に面している国を、地図中の a～d からすべて選び、記号で答えよ。
- (2) 東京から見て、地球の裏側にあたる地点について述べた次の文の ①, ② にあてはまる語句の組み合わせとして正しいものを、あとのア～エから 1 つ選び、記号で答えよ。

東京は北緯 36 度、東経 140 度に位置する。東京から見て地球の裏側にあたる地点は、

① 36 度、西経 ② 度である。

- ア ① - 南緯, ② - 40 イ ① - 南緯, ② - 140
ウ ① - 北緯, ② - 40 エ ① - 北緯, ② - 140

- (3) 地図中の D の国について、次の各問に答えよ。
- ① 次の雨温図は地図中の A～D の国のいずれかのものである。D の国の雨温図にあてはまるものを、次のア～エから 1 つ選び、記号で答えよ。



- ② 次の表 1 は地図中の D 国と日本との比較、表 2 は D 国の輸出と輸入の総額と上位 3 品目の金額を示している。表から読み取れることとして正しいものをあとのア～エから 1 つ選び、記号で答えよ。

表 1 D 国と日本との比較 (2009 年)

項目	D 国	日本
面積(万 km ²)	27.0	37.8
人口(万人)	432.3	12751.6
農業人口(万人)	16.7	217.2
羊の飼育頭数(万頭)	3238.4	1.4
牛の飼育頭数(万頭)	996.1	442.3

※面積は 2008 年、農業人口は 2004 年の数値。

表 2 D 国の輸出と輸入 (2009 年)


輸出(百万ドル)		輸入(百万ドル)	
酪農品	5067	機械類	5727
肉類	3323	自動車	1920
機械類	1658	原油	1868
総額	24933	総額	25566

(「世界国勢図会 2011/12」より)

- ①
- (1) a はアンゴラ、d はブラジル。b はソマリアでインド洋、c はオーストラリアでインド洋と太平洋に面する。
- (2) ある地点の、地球上での反対側の位置を求めるには、例えばある地点の位置が北緯 A 度、東経 B 度の場合、緯度は南緯 A 度、経度は西経 (180 - B) 度となる。
- (3) ① D 国はニュージーランドで、雨温図は夏 (7 月・8 月ごろ) の気温が低くなっているウとなる。
- ② ア 人口密度は人口 ÷ 面積で計算される。ニュージーランドの人口は日本よりも圧倒的に少ないことから、日本より人口密度は低い。ウ これらの表からはわからない。エ 貿易赤字の状態にある。
- (4) ② EU (欧州連合) 加盟 28 か国のうち、イギリスやスウェーデンなどはユーロを使用していない。
- ③ X はオランダ。アはイタリア、イはフランス、ウはポルトガルについての説明。

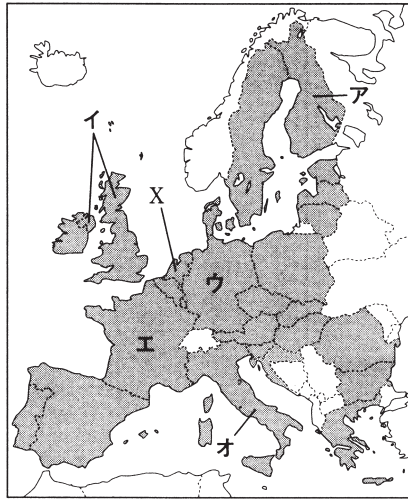
- ア D国は、面積が日本の約4分の3で、人口は日本より少ないため、日本より人口密度が高い。
- イ D国では、人口より多い羊や牛が飼育され、畜産物が輸出品の上位を占めている。
- ウ D国にとって日本は、主要な貿易相手国である。
- エ D国では、輸入総額が輸出総額を上回っており、貿易黒字の状態にある。

(4) 右の地図を見て、次の各問に答えよ。

① 地図中の  の国々が加盟している組織を何というか。アルファベット2字で答えよ。

② ①の組織の共通通貨を使用していない国を、右の地図中のア～オから1つ選び、記号で答えよ。

③ 地図中のXの国について述べているものを次から1つ選び、記号で答えよ。



ア ぶどうの生産量が世界第1位であり、首都の中にバチカン市国という独立国がある。

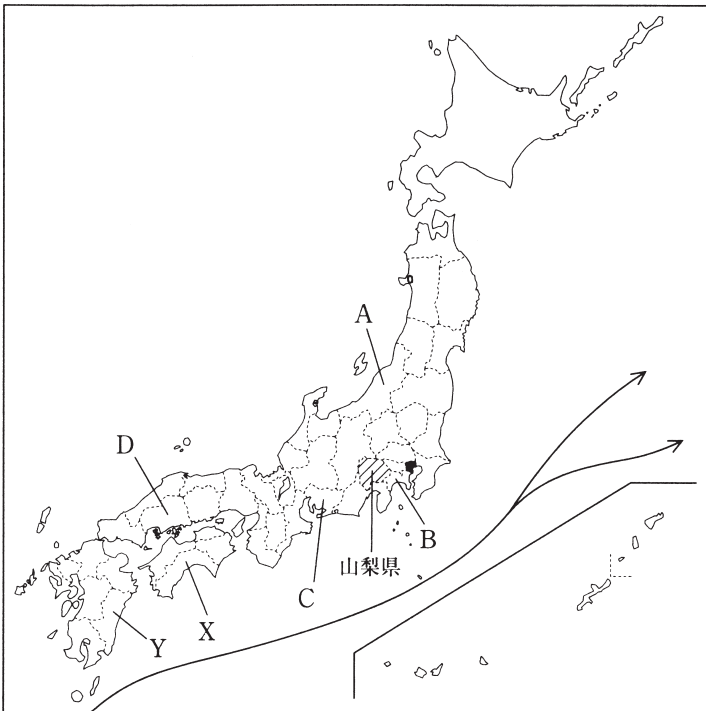
イ 西ヨーロッパ最大の農業国で、食料自給率が高い。

ウ 16世紀に、この国の人が日本に鉄砲を伝えた。

エ ポルダーとよばれる干拓地が広がっており、酪農や園芸農業がさかんである。

日本地理 ② 次の地図を見て、下の各問に答えよ。

総合



(1) 地図中の山梨県について、次の各問に答えよ。

① 山梨県に県境が接し、中部地方に属さない県を次から1つ選び、記号で答えよ。

ア 埼玉県 イ 長野県 ウ 群馬県 エ 静岡県

② 山梨県などの盆地によく見られる、川が山地から平地に流れ出たところに形成される地形を何というか。漢字で答えよ。

③ ②の地形では、ぶどうやももの栽培がさかんである。このような土地利用を表す地図記号を次から1つ選び、記号で答えよ。

ア II イ Q ウ Λ エ O

②

(1) ① 埼玉県は山梨県に接する関東地方の県。群馬県は山梨県と県境が接していない。

③ 扇状地は水はけがよく、日当たりもよいため、果樹園として利用されていることが多い。

(2) ① Xは高知県、Yは宮崎県。暖流である日本海流(黒潮)の影響で、冬でも温暖な気候をいかした促成栽培がさかん。

(3) アはAの新潟県、イはBの神奈川県、ウはDの広島県、エはCの愛知県。人口が多いイとエは神奈川県か愛知県で、工業出荷額が高いエが愛知県とわかる。米の収穫量が多いアは新潟県。

(4) 東京23区は大企業の本社や官公庁、教育施設が多く集まっている。そのため、通勤・通学のラッシュが発生し、仕事をしている人や学生が多い昼間人口の方が夜間人口より多くなっている。

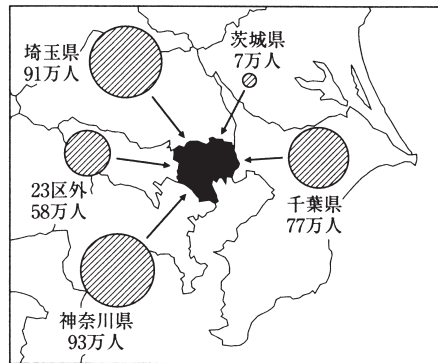
- (2) 地図中の X・Y の県の平野部では、暖かい気候を利用してトマトやピーマンの促成栽培が行われている。これについて、次の各問に答えよ。
- ① この暖かい気候に影響を与えている、地図中の——→で示した海流を何というか。漢字4字で答えよ。
- ② このような促成栽培を行う利点を、「出荷時期」「価格」という語句を使用して、30字以内で簡単に書け。
- (3) 次の表は、地図中の A～D の県についてまとめたものである。B 県にあてはまるものを、表の A～E の中から1つ選び、記号で答えよ。

県名	人口(千人) 2011年	米の収穫量(千t) 2011年	工業出荷額(億円) 2009年	第1次産業人口の割合(%) 2010年
ア	2362	632	41838	6.3
イ	9058	17	149482	1.1
ウ	2855	136	79547	3.3
エ	7416	155	345825	2.2

(「日本国勢図会2012/13年」ほかより)

- (4) 地図中に●で表した東京23区への通勤・通学者数は右の図のようになっている。これを見て、次の各問に答えよ。

- ① 東京23区への通勤・通学者数が最も多い県を地図中から選び、県名を答えよ。
- ② この図から考えられる東京23区の特徴として間違っているものを次から1つ選び、記号で答えよ。
- ア 通勤・通学ラッシュが発生している。
- イ 大きな企業や官公庁・学校が集まっている。
- ウ 昼間より夜間の方が人口が多い。
- エ たくさんの鉄道や道路が通っている。



(「日本国勢図会2010/11」より)

近世まで③ 次の土地制度改革についてまとめた表を見て、下の各問に答えよ。

の日本

名称	時代	内容
A	奈良	戸籍に登録されている①歳以上の男女に②を与え、その人が死ぬと国に返させた。
B	奈良	②が不足したため、③新しく開墾した土地を、開墾した人が永久に私有することを認めた。
たいこうけんち 太閤検地	安土桃山	全国の田畑の面積と土地のよしあしを調べ、予想される生産量を石高 <small>こくだか</small> で表した。
C	明治	政府は地価を定め、当初は地価の④%にあたる額を土地の所有者が現金で納めることとした。
D	昭和	政府が農地を買い上げ、小作人に安く売り渡した。

- (1) A～Dにあてはまる法令や、土地制度改革の名称の組み合わせとして正しいものを次から1つ選び、記号で答えよ。
- ア A - 墾田永年私財法こんでんえいねんしさいのほう, B - 班田収授法はんてんしゅうじゆのほう, C - 地租改正ちそかいせい, D - 農地改革のうちかいかく
- イ A - 墾田永年私財法, B - 班田収授法, C - 農地改革, D - 地租改正
- ウ A - 班田収授法, B - 墾田永年私財法, C - 農地改革, D - 地租改正
- エ A - 班田収授法, B - 墾田永年私財法, C - 地租改正, D - 農地改革
- (2) ①・④にあてはまる数字の合計を次から1つ選び、記号で答えよ。
- ア 9 イ 11 ウ 23 エ 25
- (3) ②に共通してあてはまる語句を漢字3字で答えよ。

③

- (2) 班田収授法はんてんしゅうじゆのほうでは、6歳以上の男女に口分田くぶんでんが与えられた。地租改正ちそかいせいでは、地価の3% (のちに2.5%)にあたる額を現金で納めさせた。
- (4) アは江戸時代、イは室町時代、エは安土桃山時代たいこうけんちで太閤検地のときのことである。
- (5) 戦後の民主化では、財閥は解体された。

- (4) 下線部③のできごとが社会に与えた影響についてあてはまるものを、次から1つ選び、記号で答えよ。
- ア 商品作物の栽培がさかんに行われるようになり、貨幣経済が広がった。
- イ 惣とよばれる自治組織ができ、山野の利用などについて話し合われるようになった。
- ウ 貴族などが荘園を増やし、公地公民制がくずれていった。
- エ 荘園領主などがもつ土地の権利などが否定され、公家や寺社は勢力を失った。
- (5) Dは、第二次世界大戦後にわが国が民主化をめざすなかで行われたことである。同じところに行われた民主化について述べた文として、間違っているものを、次から1つ選び、記号で答えよ。
- ア 選挙制度が改正され、満20歳以上のすべての男女に選挙権が与えられた。
- イ 治安維持法が廃止され、政党の活動や言論の自由が認められた。
- ウ 労働組合法が制定され、労働者の団結権などが認められた。
- エ 日本経済は、財閥に支配されるようになった。

近代～④ 次の文章を読んで、下の各問に答えよ。

現代の
日本

1914年、オーストリアの皇太子夫妻がサラエボで暗殺されたことをきっかけに第一次世界大戦は始まった。日本は()を理由にこれに参戦する一方、欧米諸国の関心がアジアから薄れたことを機に、中国に二十一か条の要求を認めさせた。第一次世界大戦は1918年にドイツが降伏し、翌年a パリで開かれた講和会議で終わりをむかえた。戦後、b アメリカ大統領の提案で、「民族自決」の考え方に基づいたc 国際連盟が誕生した。しかし、ヨーロッパ以外の国の民族自決はあまり考えられておらず、d 中国や朝鮮、インドでは激しい民族運動が展開された。

第一次世界大戦後は、戦争で疲弊したヨーロッパにかわってアメリカが経済の中心となっていたが、1929年、ニューヨークの株式市場の株価が暴落したことをきっかけに世界恐慌が世界中に広まった。この状況を打ち破るため、e 各国はいろいろな政策を進めていった。

- (1) 文章中の()にあてはまる語句を漢字4字で答えよ。
- (2) 下線部aについて、このときの講和会議でドイツが結んだ条約を何というか、答えよ。
- (3) 下線部bについて、このときのアメリカ大統領を次から1人選び、記号で答えよ。
ア ヒトラー イ レーニン ウ ウィルソン エ ムツソリーニ
- (4) 下線部cについて、この組織の説明としてあてはまらないものを次から1つ選び、記号で答えよ。
ア 本部はスイスのジュネーブに置かれた。
イ 勢力均衡ではなく、集団安全保障による平和を求めた。
ウ 常任理事国は、イギリス・フランス・ドイツ・ソ連であった。
エ 議会の反対でアメリカは参加していなかった。
- (5) 下線部dについて、このときインドで「非暴力・不服従」を唱え、独立運動を指導した人物はだれか、答えよ。
- (6) 下線部eについて、このとき計画経済を進めており、ほとんど世界恐慌の影響を受けなかった国を次から1つ選び、記号で答えよ。
ア アメリカ イ ドイツ ウ イギリス エ ソ連

④

- (1) 日本は日英同盟を理由に、連合国側に参戦した。
- (4) 国際連盟の常任理事国は、イギリス・フランス・イタリア・日本であった。ドイツとソ連は当初は加盟していなかった。
- (6) ソ連では、レーニンのあとを継いだスターリンの指導のもと、計画経済を進めたため、世界恐慌の影響をほとんど受けなかった。アメリカはニューディール政策、イギリスやフランスはブロック経済で世界恐慌を乗り切ろうとした。