

社会

※社会は自分の弱点の問題を確認して実施しましょう。

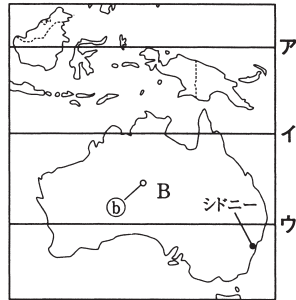
世界地理 ① 次の地図を見て、あとの各問に答えよ。ただし、これらの地図の縮尺は異なる。

総合

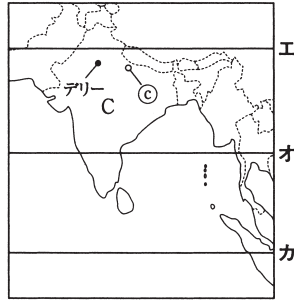
地図1



地図2



地図3



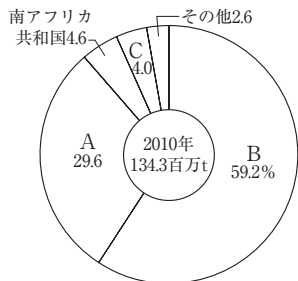
- 地図1中のXの緯線と同じ緯度の線を、地図2中のア～ウ、地図3中のエ～カからそれぞれ1つずつ選び、記号で答えよ。
- 次の表は、地図1～3中のリオデジャネイロ、シドニー、デリーと兵庫県明石市について、標準時子午線の経度を示している。時差が最も大きいのはどの都市とどの都市の間か。あとのア～カから1つ選び、記号で答えよ。

都市名	標準時子午線
リオデジャネイロ	西経45度
シドニー	東経150度
デリー	東経75度
明石市	東経135度

- ア 明石市-デリー イ 明石市-リオデジャネイロ
 ウ 明石市-シドニー エ デリー-リオデジャネイロ
 オ デリー-シドニー カ リオデジャネイロ-シドニー
- 地図1中のYの山脈を、次から1つ選び、記号で答えよ。
 ア アパラチア山脈 イ ロッキー山脈 ウ ヒマラヤ山脈 エ アンデス山脈
 - 次の文は、ある都市の気候について述べたものである。あてはまる都市を、地図中の①～③から1つ選び、記号で答えよ。

一年を通して高温で降水量が多い。また数十メートルにもなる木々が茂った密林が広がっている。

- 次のグラフは、ある鉱産資源の日本の輸入相手国とその輸入量の割合(2010年)を示している。この鉱産資源は何か、次から1つ選び、記号で答えよ。ただし、グラフ中のA～Cは地図中のA～C国と同一である。
 ア 石油 イ 鉄鉱石
 ウ 石炭 エ 天然ガス



(「日本国勢図会 2012/13年」より)

- 次の表は、地図中のA～C国について、人口と面積を示したものである。3か国のうち最も人口密度が高い国はどこか。記号と国名を答えよ。

	人口(万人)	面積(万km ²)
A	19495	852
B	2227	769
C	122461	329

(2010年) (「日本国勢図会 2012/13年」より)

①

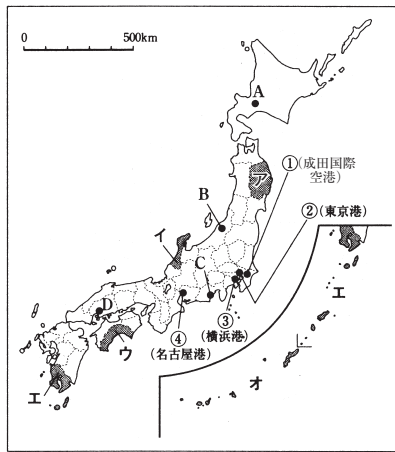
- Xは緯度0度の赤道である。赤道はインドネシアやアフリカ大陸の中央部などを通る。
- 太平洋上の180度の経線を基準にして日付が変わる。一番早く日付が変わるのが、東経150度のシドニー、それから1時間おくれて東経135度の明石市の日付が変わる。シドニー→明石市→デリー→リオデジャネイロの順に日付が変わるので、シドニーとリオデジャネイロの時差が一番大きい。
- ①は赤道直下で、熱帯の気候、②は砂漠にあり、乾燥帯の気候、③は温帯の気候である。
- 日本は、鉄鉱石の輸入量の半分以上をオーストラリアから輸入している。
- 人口密度は、人口÷面積で求められる。Aは $194950000 \div 8520000 = 22.88\dots$ 、Bは $22270000 \div 7690000 = 2.89\dots$ 、Cは $1224610000 \div 3290000 = 372.22\dots$ となり、人口密度が最も高いのはCのインドとなる。

日本地理② 次の地図やグラフ、表を見て、下の各問に答えよ。

総合

(1) 次の①・②の文にあてはまる県を、地図中のア～オのうちから1つずつ選び、その記号と県名を書け。

- ① 火山灰におおわれた土地が広がっているため、米作りはあまりさかんではない。しかし、野菜作りや畜産がさかんに行われている。県内には、世界遺産に登録された島もある。
- ② 複雑に入り組んだ海岸線が長く続く県。このため、津波を受けると大きな被害が出ることがある。また、夏に北東からの風を受ける年には、気温が上がらず、冷害となることもある。

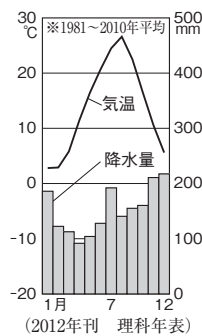


(2) 次の文は、日本の河川の特徴をまとめたものである。文中の□にあてはまる語句の組み合わせとして正しいものを、下のア～エから1つ選び、記号を書け。

日本の国土は細長く、中央を山地が走っているため、どの河川も山から海までの距離が□①□，流れが□②□である。また、流域面積が□③□ことも特徴の1つである。

- ア ①-長く、②-ゆるやか、③-せまい
- イ ①-長く、②-急、③-広い
- ウ ①-短く、②-ゆるやか、③-広い
- エ ①-短く、②-急、③-せまい

(3) 右のグラフは、地図中のA～Dのいずれかの都市の気候のようすを示している。どの都市のものか。記号を書け。



(4) 右の表Iは、次のア～エのいずれかの地方の農業産出額の内わけを示したものである。表I中のBにあてはまる地方はどれか。記号で答えよ。

表I 4つの地方の農業産出額の内わけ

	米	野菜	果実	畜産	総産出額
A	4 710	2 215	1 592	3 829	13 114
B	2 945	6 251	681	4 361	16 029
C	1 522	1 292	778	1 189	5 438
D	3 830	3 280	1 547	2 575	13 318

2009年(単位: 億円)

(「データでみる県勢 2012年」より)

- ア 東北地方
- イ 関東地方
- ウ 中部地方
- エ 近畿地方

(5) 右の表IIは、地図中の①～④のいずれかの港(空港をふくむ)の主な輸出品を示したものである。表II中のBにあてはまる港(空港)を1つ選び、番号で答えよ。

表II 主な港の輸出品目

	A	B	C	D
自動車	22 932	集積回路 6 880	自動車 12 950	コンピュータ部品 3 968
自動車部品	12 976	科学光学機器 6 727	自動車部品 4 373	自動車部品 2 956
金属加工機械	4 536	金(非貨幣用) 5 688	金属加工機器 3 558	プラスチック 2 524
内燃機関	4 486	電気回路用品 3 617	内燃機関 3 447	内燃機関 2 151
ポンプ・遠心分離器	2 845	映像記録・再生機器 3 105	プラスチック 2 674	電気回路用品 1 942
合計	90 630	合計 92 288	合計 70 066	合計 47 096

2011年(単位: 億円)

(「日本国勢図会 2012/13年」より)

②

- (1) ① 火山灰におおわれた土地をシラス台地という。水もちが悪いため、米作りには適さない。② 複雑に入り組んだ海岸線とは三陸海岸のこと。このような海岸をリアス式海岸という。
- (3) Aの札幌市と混同しやすいが、冬の降水量が多いことと、冬でも気温が0℃を下回らないことからBの新潟であると判断できる。
- (5) 輸出品目をよく見ると、Bだけが軽くて高価な機械類が上位に位置していることがわかる。これらの品目は航空機によって輸送される。

近世まで③ 次のA～Cは、鎌倉～室町時代に関係のある史料である。史料を読んで、下の各問に答えよ。

の日本

A	<p>みなの方、よく聞きなさい。これが最後の言葉です。頼朝公が朝廷の敵をたおし、幕府を開いてからこのかた、官職といい、土地といい、その恩は山より高く、海より深いものでした。みんながそれに報いたいという志はきっと浅くないはずです。名誉を大事にする者は、京都に向かって出陣し、逆臣をうち取り、幕府を守りなさい。</p>
B	<p>所領の質入れや売買は、御家人の生活が苦しくなるもとなので、今後は禁止する。…御家人以外の武士や庶民が御家人から買った土地については、売買後の年数に関係なく、返さなければならない。(部分要約)</p>
C	<p>正長元年ヨリサキ者、カンベ四カンガウニヲキメアルベカラズ(1428年以前の借金は神戸4か郷では帳消しにする。)</p>

(1) 史料Aについては、次の各問に答えよ。

① 史料Aは、だれの言葉を記録したものか。次のア～エから1つ選び、記号で答えよ。

ア 源義経 イ 北条泰時 ウ 平清盛 エ 北条政子

② 史料Aの下線部と関係の深いできごとは、次のどれか。記号で答えよ。

ア 保元の乱 イ 承久の乱 ウ 壬申の乱 エ 応仁の乱

(2) 史料Bは、1297年に鎌倉幕府が出した法令である。このような法令を何というか。漢字3字で書け。

(3) 史料Cは、1428年に農民たちがおこした一揆によって、借金の帳消しを勝ち取ったことをしたものである。このころの農村では、有力な農民の指導のもとで自治的な組織がつくられ、村のおきてを定めたり、荘園の領主などに抵抗したりするようになっていた。この自治的な組織は次のどれか。記号で答えよ。

ア 座 イ 馬借 ウ 問丸(問) エ 惣

(4) 次のア～エは、鎌倉～室町時代におこったできごとである。ア～エを年代の古い順に並べかえて、記号で答えよ。

ア 元の大軍が2度にわたって北九州に攻めてきた。
 イ 北陸地方で一向一揆がおこり、武士や農民たちが守護大名をたおした。
 ウ 勘合という合い札を用いた日明貿易が始まった。
 エ 御家人に対して裁判の規準を示すために、御成敗式目がつくられた。

③

- (1) 源頼朝の妻、北条政子は、朝廷が反幕府の兵を挙げたさい、御家人を集めてこのように話したといわれる。
- (2) 史料Bは、1297年に出された「永仁の徳政令」である。
- (3) 惣としてまとまった農民たちは、荘園の領主と交渉したり、惣の責任で年貢を納めたりした。

近現代④ 次の略年表を見て、下の各問に答えよ。

の日本

(1) 年表中のAについて、このできごとと関連の深い人物は次のどれか。記号で答えよ。

ア 伊藤博文 イ 板垣退助
 ウ 西郷隆盛 エ 岩倉具視

(2) 年表中のBについて、この憲法のもとで行われた第1回衆議院議員選挙における有権者数は、総人口のおよそ何%だったか。次のア～エから1つ選び、記号で答えよ。

ア 約0.1% イ 約1%
 ウ 約10% エ 約20%

(3) 年表中のCについて、このできごとを正しく説明したものは、次のどれか。記号で答えよ。

ア 戦争終結後に政府が結んだ条約に対して、日本の権益が少ないことに国民がはげしく抗議し、東京では暴動をともなう民衆運動にまで発展した。

イ 新婦人協会が設立され、女性の政治活動の自由や男女共学などを求める運動がくり広げられた。

年代	主なできごと
1868	明治維新が始まる
1874	民権議院設立の建白書が提出される…A
1889	大日本帝国憲法が公布される…B
1912	第一次護憲運動…C
1918	米騒動がおこる…D
1925	普通選挙法が成立する…E
1941	太平洋戦争(～45)…F
1946	日本国憲法が公布される

④

- (2) 第1回衆議院議員選挙(1890年)での有権者は、直接国税15円以上を納める満25歳以上の男子に限られ、約45万人(総人口の約1.1%)しかいなかった。
- (3) アは日露戦争後のようす、イは大正時代の新婦人協会の活動、エは自由民権運動の説明である。
- (6) アは1933年、イは1936年、ウは1938年、エは1931年のできごとである。

- ウ ^{はんぱつ}藩閥出身の総理大臣が組閣し、議会を無視する態度をとったことに対して、知識人らが反対し、これを支持する民衆の運動が各地でおこったため、内閣は退陣した。
- エ 藩閥政治に対して、言論をもって批判する動きが中心となり、国民の参政権を求める運動が全国的に広まった。
- (4) 年表中のDについて、このできごとの直後に、立憲政友会総裁の^{はらたかし}原敬を総理大臣として、大部分の大臣が政党の党員によってしめられる内閣が組織された。このような内閣を何と
いうか。漢字2字で書け。
- (5) 年表中のEについては、この法律と同時に制定された、共産主義に対する取りしまりを
強化するための法律は何か。漢字4字で書け。
- (6) 次のア～エは、年表中のE～Fの時期におこった主なできごとである。古い順に並べか
えよ。
- ア 日本が国際連盟を脱退する。
- イ 二・二六事件がおこる。
- ウ 国家総動員法が制定される。
- エ ^{まんしゅう}満州事変がおこる。