

社会

※社会は自分の弱点の問題を確認して実施しましょう。

世界地理① 次の地図を見て、下の各問に答えよ。

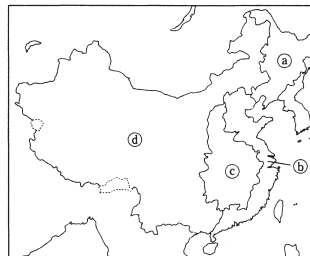
総合 地図1



- (1) 地図1中のXの国は、アジア州にふくまれる。アジア州をさらに6つの地域に分けた場合、Xの国が属する地域はどこか、答えよ。
- (2) 地図1中のロンドンまで旅行するために、成田国際空港を10月7日午後2時に出発する飛行機に乗った。ロンドンに飛行機が到着したのは、現地時間で10月7日午後5時だった。ロンドンまでの飛行時間は何時間だったか、答えよ。ただし、サマータイムは考えないものとする。

(3) 右の地図2は、地図1中のAの国を4つの地域に分けたものである。地図2について、次の各問に答えよ。

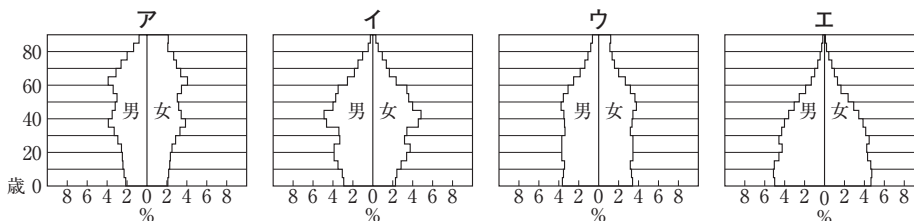
地図2



- ① この国の90%以上を占める民族名を答えよ。
- ② この国の人口(2011年)は、世界の人口のおよそ何%を占めているか、次から1つ選び記号で答えよ。
ア 5% イ 10% ウ 20% エ 30%
- ③ 地図2中のcの地域について述べている文を、次から1つ選び、記号で答えよ。

- ア 降水量が少なく乾燥しているため、やぎや馬・羊などの牧畜や遊牧が行われている。
- イ ターチン油田やフーシェン炭田などがあり、早くから重工業が発展した地域である。
- ウ 外国企業の誘地を目的とする経済特区に指定された5つの地域がある。
- エ 近年、工業進出がめざましく、世界最大の水力発電ダムであるサンシアダムも建設されている。

(4) 次のグラフは、地図1中のA～Dの国の男女・年齢別の人口構成を示している。Dの国のグラフ(2009年)にあてはまるものを、次から1つ選び、記号で答えよ。



(「世界国勢図会2012/13年」より)

①

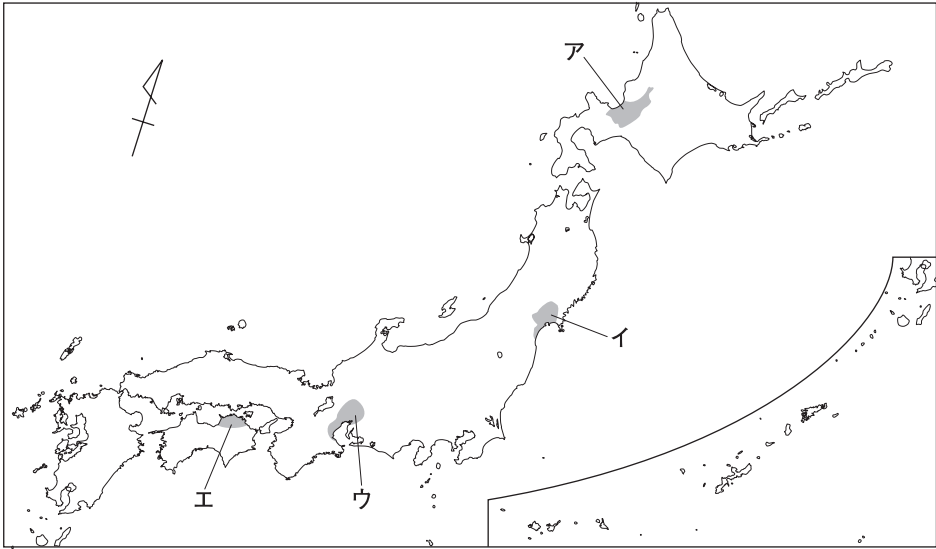
- (2) ロンドンは日本より9時間遅れているから、成田国際空港を出発した時間はロンドンでは10月7日午前5時。午後5時にロンドンに着いているので、飛行時間は12時間となる。
- (3) ② 世界の人口はおよそ70億人、中国の人口はおよそ13.5億人である(2011年)。
- (4) アは日本、イは中国、エはインドネシアの人口ピラミッドである。

日本で見られる災害にはどのようなものがあるだろうか。日本列島は、アンデス山脈や a ロッキー山脈が連なる環太平洋造山帯の一部に位置するため、火山の噴火や地震が多く発生する。

b 1995年におこった大地震では、死者が6000人以上となる被害が出た。地震が発生すると、それにとまって [] による被害が出ることもあり、遠く離れた南アメリカ大陸で発生した大地震による [] が日本まで達することもある。

また、日本では台風や集中豪雨によって、高潮、がけ崩れ、山崩れなどがおこることがある。さらに、冬に雪が多い日本海側や山間部では、なだれの被害も見られる。c 夏の異常な低温による農作物への被害や、降水量が少ない地域などで d 水不足や干害がおこることもある。

- (1) 下線部 a のロッキー山脈が位置する大陸の説明として正しいものを、次から1つ選び、記号で答えよ。
- ア この大陸は、面積の大きな2つの国のみで占められている。
 - イ この大陸には、ロッキー山脈のほか、アパラチア山脈、ウラル山脈がある。
 - ウ この大陸は、世界の六大陸の中で最も面積が大きい。
 - エ この大陸は、東岸が大西洋に面しており、西岸は太平洋に面している。
- (2) 下線部 b について、この地震・震災にあてはまるものを、次から1つ選び、記号で答えよ。
- ア 関東大震災
 - イ 新潟県中越地震
 - ウ 阪神・淡路大震災(兵庫県南部地震)
 - エ 四川大地震
- (3) 文中の [] に共通してあてはまる語句を答えよ。
- (4) 下線部 c の災害を何というか、漢字2字で答えよ。
- (5) 下線部 d に関して、年間を通じて降水量が少なく、大きな河川もないために水不足がおこりやすく、古くからため池が多くつくられてきた地域を、次の地図中のア～エから1つ選び、記号で答えよ。



- (1) ロッキー山脈は、北アメリカ大陸の西側を南北に連なっている。
- (4) 東北地方の北東部の海岸沿いでは、初夏に「やませ」とよばれる冷たい風が吹き、冷害がおこることがある。
- (5) 讃岐平野では年間を通じて降水量が少ない。現在では、香川用水を利用して吉野川から水を引いている。

中世まで③ 次の略年表を見て、下の各問に答えよ。

の日本

世紀	1	2	3	4	5	6	7	8	9	10	11	12	13	14	15	16	17	18	19	
主なできごと	倭の奴国の王が中国に使いを送る…… A		卑弥呼が中国に使いを送る…… B		倭王武が中国に使いを送る…… C		聖徳太子が中国に使いを送る…… D					藤原道長が摂政となる…… E	源頼朝が鎌倉幕府を開く…… F				徳川家康が江戸幕府を開く…… G			大政奉還

(1) 中国や朝鮮半島が右の地図のようなようすであったのは、年表中のA～Dのどの時期のことか。記号で答えよ。

(2) 年表中のAについて、このころの日本のようすを正しく説明しているものは次のどれか。記号で答えよ。

ア 人々は木の実やけもの、魚や貝などを主な食料とし、たて穴住居でくらしていた。

イ 奈良盆地のあたりに強力な勢力が生まれ、大きな古墳がつくられるようになった。

ウ 稲作が行われ、収穫した稲は高床の倉庫にたくわえられた。各地に小さな国がつけられ、人々は、水田の近くに集落をつくって住んでいた。

エ 打製石器でつくった道具を用いてオオツノジカなどをとらえ、食料としていた。

(3) 次の文は年表中のEのころの地方のようすである。文中の□にあてはまる語句を、漢字2字で書け。

平安時代の半ばを過ぎたころ、地方の豪族と中央の武官との交流のなかから武士がおこり、勢力を強めていった。武士は、館を築いて土地を開発し、自分の領地を寄進して中央の貴族や寺社の□とし、自分はそれを管理する役について実力をつけていった。

(4) 年表中のFについて、鎌倉時代の農業の説明として正しいものは、次のどれか。記号で答えよ。

ア 大がかりな土地の開墾が進み、長い用水路をつくったり、海や沼地を干拓したりして大きな新田が開かれるようになった。

イ 肥料に牛馬の糞や堆肥を用いるようになり、麻やくわ、茶などの栽培が広まった。

ウ 牛馬を利用したり、草や木の灰を肥料に用いたりするようになり、二毛作も行われるようになった。

エ 農業の技術書がつくられ、備中ぐわなどの進んだ農具が使われるようになった。

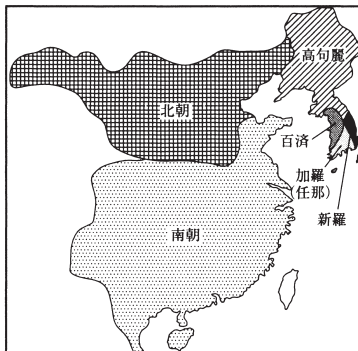
(5) 右の資料は、年表中のGのころに各地を支配していた大名がつくった法令である。このような大名を何というか。書け。

(6) 年表中のGについて、わが国に鉄砲を伝えたのは、どこの国の人だったか。国名を書け。

(7) 次のア～エは、年表中のaの時期に行われたさまざまな政治改革の内容である。古い順に並べよ。

ア 商工業者が株仲間を結ぶことを奨励し、特権をあたえるかわりに税を取った。また、長崎での貿易をさかんにするため、銅を専売制とし、海産物の輸出を奨励した。

イ きびしい儉約令を出してぜいたく品を禁止し、出版や風俗を取りしまるとともに、農民が江戸に出かせぎに来ることを禁じた。また、物価を下げるために株仲間を解散



③

(1) 地図は、5世紀ごろのアジアのようすを示している。倭王武は南朝の宋に使いを送った。

(2) アは縄文時代、イは古墳時代、エは旧石器時代の内容である。

(3) 律令制がくずれていくとともに私有地である荘園が発生し、やがて寺社や有力な貴族が多くの荘園を所有し、勢力を強めるようになる。このような動きのなかで、地方では武士が生まれ、次第に成長していくのである。

(4) ア、エは江戸時代の農業、イは室町時代の農業のようすである。各時代の農業については、「二毛作」、「干拓」、麻や茶などの「商品作物」といったキーワードをとらえて整理しておきたい。

(5) 室町時代の後半になると、下剋上の風潮のなかから、従来の守護大名に代わって、戦国大名という実力者が台頭してくる。戦国大名は、分国法をつくったり、城下町を整えたりするなど、領国経営にも力を注いだ。

(7) アは田沼意次、イは水野忠邦、ウは松平定信、エは徳川吉宗による政治改革の内容である。

一 本拠である朝倉館のほか、国内に城を構えては成らない。
(朝倉孝景条々)

一 けんかをした者は、いかなる理由による者でも処罰する。
(甲州法度之次第)

させた。

ウ ききんにそなえるため、農村に倉を設けて米をたくわえさせ、商品作物の栽培を制限した。また、朱子学を学ばせる学問所をつくって人材の登用をはかった。

エ 武士に質素・儉約をすすめ、大名の参勤交代を一時ゆるめるかわりに、幕府に米を献上させた。また、新田の開発を進め、年貢の率を一定にした。

近世から④ 次の略年表を見て、下の各問に答えよ。

の日本 (1) 年表中のAについて、明治維新で行われたさまざまな政策の説明で、まちがっているものは次のどれか。記号で答えよ。

ア 日本国民は、天皇の一族以外はすべて平等であるとした。

イ 6歳以上の男子はすべて小学校教育を受けることとした。

ウ 満20歳に達した男子は、兵役の義務を負うこととした。

エ 近代産業の育成のため、官営の模範工場をつくるなどした。

(2) 年表中のBについて、この条約締結のきっかけとなったできごとは、次のどれか。記号で答えよ。

ア 秩父事件

イ 西南戦争

ウ 義和団事件

エ 江華島事件

(3) 年表中のCについて、この条約で日本が獲得した遼東半島を、清に返還するように日本に勧告してきた国を、すべて書け。

(4) 年表中のDについて、このできごとの影響を受けなかった国は、次のどれか。記号で答えよ。

ア アメリカ合衆国 イ ソビエト連邦 ウ 日本 エ イギリス

(5) 年表中のEの時期におこったあるできごとによって、日本経済は好景気をむかえ、経済の復興が早まった。このわけを、そのできごとと関連づけて40字以内で説明せよ。

(6) わが国は、中国に対して、その主権をおかすような内容をふくんだ二十一か条の要求を示し、その大部分を認めさせたことがある。この要求を行ったのは、年表中のa～dのどの時期か。記号で答えよ。

年代	主なできごと
1868	明治維新が始まる…………… A
1876	日朝修好条規が結ばれる…………… B
	↑ a ↓
1894	日清戦争(～95)…………… C
	↑ b ↓
1904	日露戦争(～05)
	↑ c ↓
1914	第一次世界大戦(～18)
	↑ d ↓
1929	世界恐慌がおこる…………… D
1941	太平洋戦争(～45)
	↑ E ↓
1951	サンフランシスコ平和条約が結ばれる

④

(1) イの学制については、男女すべての国民に小学校教育を受けさせることが定められた。

(2) アの秩父事件は、1884年、生活に苦しむ農民たちが、自由党員と協力して政府に対して反乱をおこした事件。

(3) アジアへの進出をめざしていたロシアは、中国での日本の権益が増大することをおそれて、ドイツ・フランスと結んでこの勧告を行った。三国干渉とよばれるできごとである。

(6) 二十一か条の要求は1915年に行われ、これ以後、中国では日本への反発が強まった。